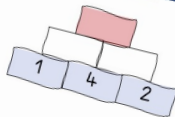





WUNDERMAUERN

Schritt für Schritt für Klasse 1

Arbeitsblätter
Hausaufgaben
Legematerial
Entdeckeraufgaben



Suche dir drei Basiszahlen aus. Baue mit diesen Zahlen möglichst hohe Wundermauern.

An Wundermauern kannst du **Basiszahlen** und **Zielzahlen** untersuchen.



Danke, dass du das Urheberrecht achtest!

Grafiken:

www.katehadfielddesigns.com,

Schriften:

www.fontquirrel.com; www.amoedo.de

www.mrs-rupad.de



mrs.rupad

wunder.burger

Einstiegsgeschichte

Vor dem Haus der Mathematik herrscht großes Treiben. Ein Lastwagen steht vor der Einfahrt und hat jede Menge große Bausteine ausgekippt. Was ein Chaos!

Herr Friederich hat schon angefangen, die Steine zu sortieren. Nächste Woche möchte er nämlich eine Zahlenmauer-Ausstellung eröffnen. Doch wie es aussieht, wird er das alleine nicht schaffen. Könnt ihr ihm helfen, die Steine richtig übereinander zu schichten?



Legematerial

Zielzahl

Basiszahlen



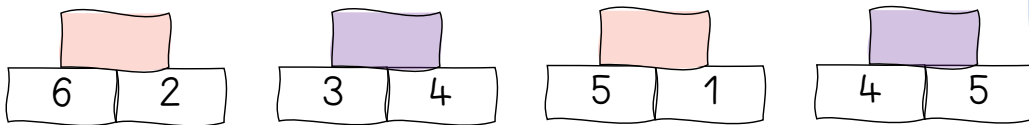
Die Wundermauer

An Wundermauern kannst du **Basiszahlen** und **Zielzahlen** untersuchen.

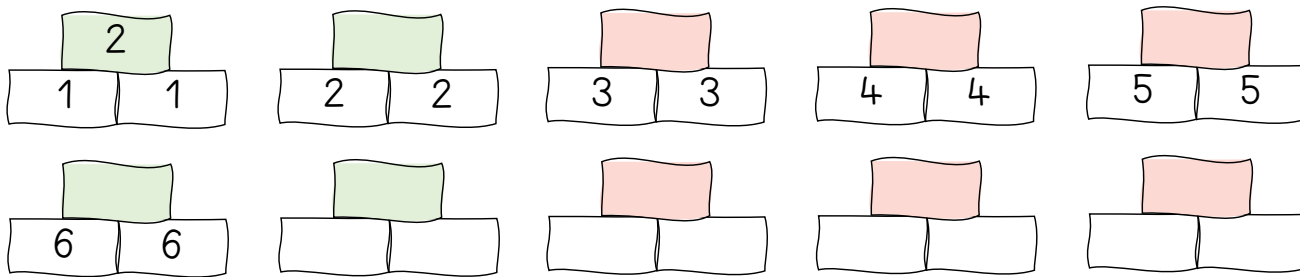


Name: _____

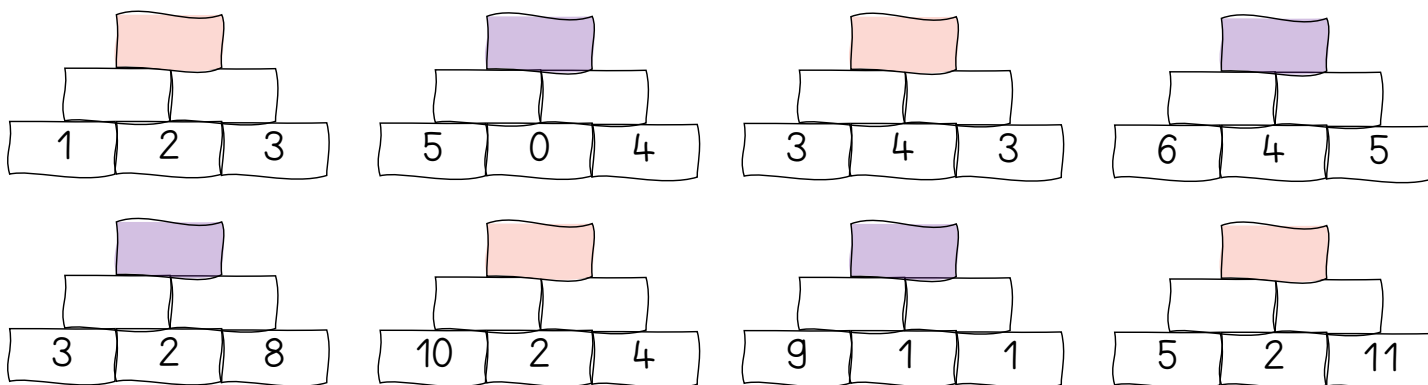
1 Rechne die Wundermauern mit zwei Baureihen aus.



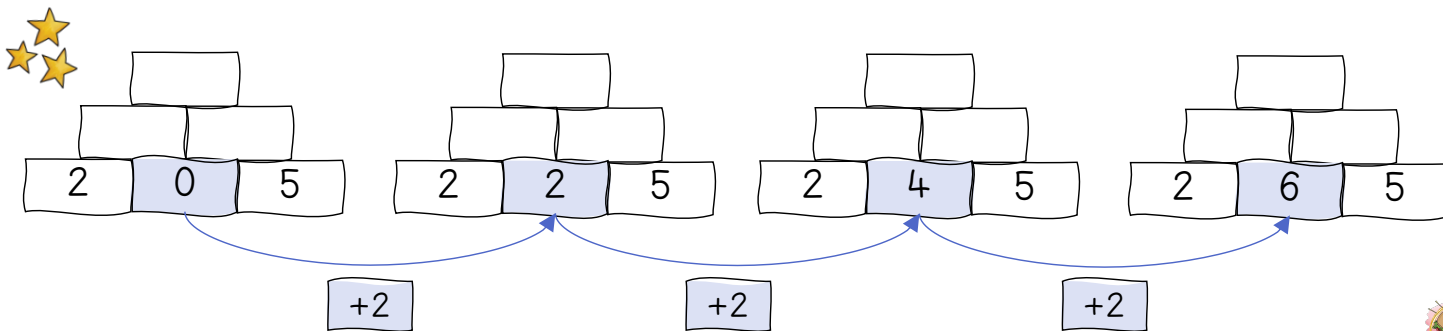
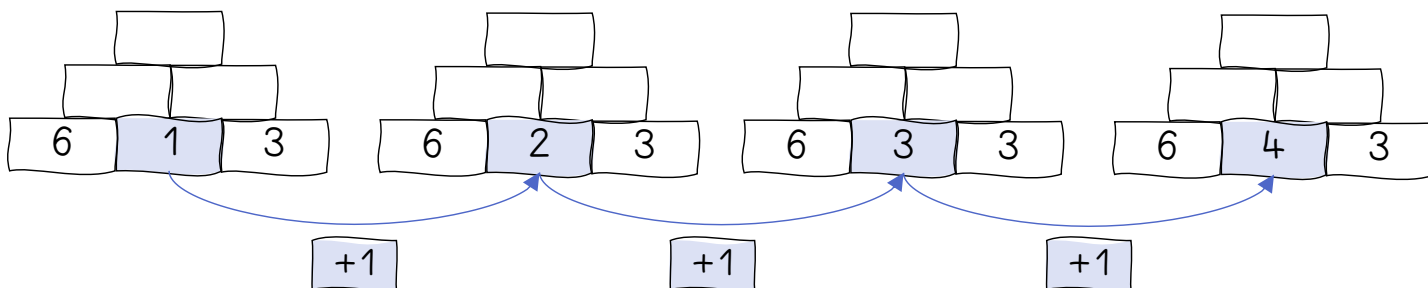
2 Findest du alle Verdopplungsmauern bis 20?

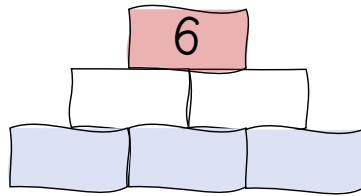


3 Rechne die Wundermauern mit drei Baureihen aus.

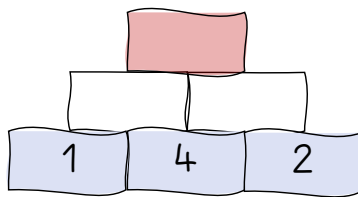


4 Löse die wunderburgbaren Mustermauern. 





Finde möglichst
alle
Wundermauern mit
der Zielzahl 6.

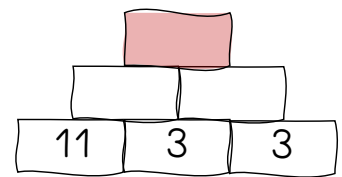
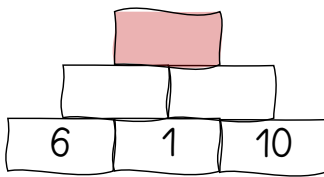
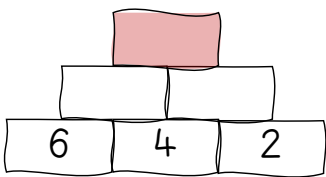
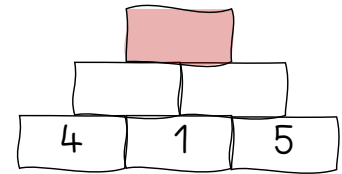
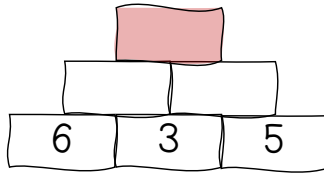
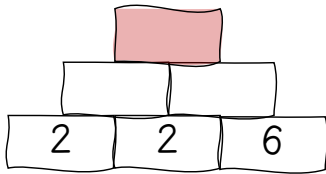
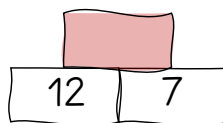
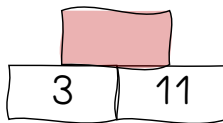
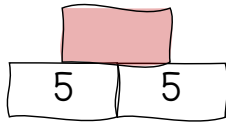


Suche dir drei Basiszahlen
aus. Baue mit diesen
Zahlen möglichst hohe
Wundermauern.

Wundermauern – Mix III







Name: _____

1 Löse die Wundermauern.



An Wundermauern kannst du **Basiszahlen** und **Zielzahlen** untersuchen.

2 Finde verschiedene Wundermauern.



3 Löse die Wundermauern zum Knobeln.

